

Московская олимпиада школьников по ИСТОРИИ (2023/24 уч. г.)

Отборочный этап

6 класс

Задание 1. Прочитайте текст и выполните задание

«_1_, увидев цветущую красоту девушки, решил немедля похитить её. С этой целью он упросил богиню Земли _2_ вырастить цветок необычайной красоты. Богиня согласилась, и в Ниссейской долине не замедлил вырасти дивный цветок, необыкновенный аромат которого разливался далеко вокруг него. _3_, увидев цветок, протянула к нему руку, но стоило ей только сорвать его, как тут же разверзлась земля: на чёрных конях в золотой колеснице появился из-под земли владыка царства теней _1_, который схватил юную, ничего не подозревающую _3_, и в мгновение ока скрылся с ней на своих быстрых конях в недрах земли. Девушка от ужаса успела только лишь вскрикнуть... Однако, кроме _4_, бога Солнца, никто не видел, как мрачный _1_ похитил юную красавицу».

Выберите список, в котором верно указаны все имена персонажей из приведённого отрывка.

- 1) Зевс, Афродита, Ио, Гелиос,
- 2) Аид, Афина, Эхо, Персей
- 3) Аид, Гея, Персефона, Гелиос,
- 4) Посейдон, Гера, Зевс, Эвридика
- 5) Гефест, Артемида, Пандора, Арес.

За верный ответ 1 балл.

Задание 2. Выберите изображение, связанное с сюжетом фрагмента.



3)




4)



5)



6)



За верный ответ 1 балл.

Задание 3-5. Прочитайте стихотворение и выполните задания.

И я вошла, и я сказала: - Здравствуй!
Пора, король, во Францию, домой!
И я опять веду тебя на царство,
И ты опять обманешь, Карл Седьмой!
Не ждите, принц скупой и невесёлый,
Бескровный принц, не распрямивший плеч,
Чтоб Иоанна разлюбила – голос,
Чтоб Иоанна разлюбила – меч.
И был Руан, в Руане – Старый Рынок...
Всё будет вновь: последний взор коня,
И первый треск невинных хворостинок,
И первый всплеск соснового огня.
А за плечом – товарищ мой крылатый
Опять шепнет: - Терпение, сестра,
Когда сверкнут серебряные латы
Сосновой кровью моего костра.

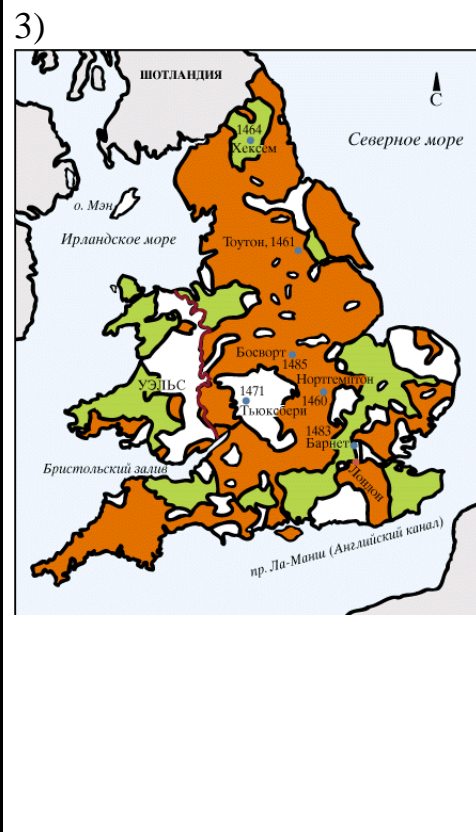
3. Выберите изображение исторической личности, которой посвящено данное стихотворение.

<p>1)</p> 	<p>2)</p> 
<p>3)</p> 	<p>4)</p> 

За верный ответ 1 балл.

4. Выберите схему, на которой изображены события, в которых эта историческая личность сыграла значимую роль.

1)	2)
----	----



За верный ответ 1 балл.

5. Выберите изображение собора, в котором короновался правитель, упомянутый в тексте.

1)



2)



3)

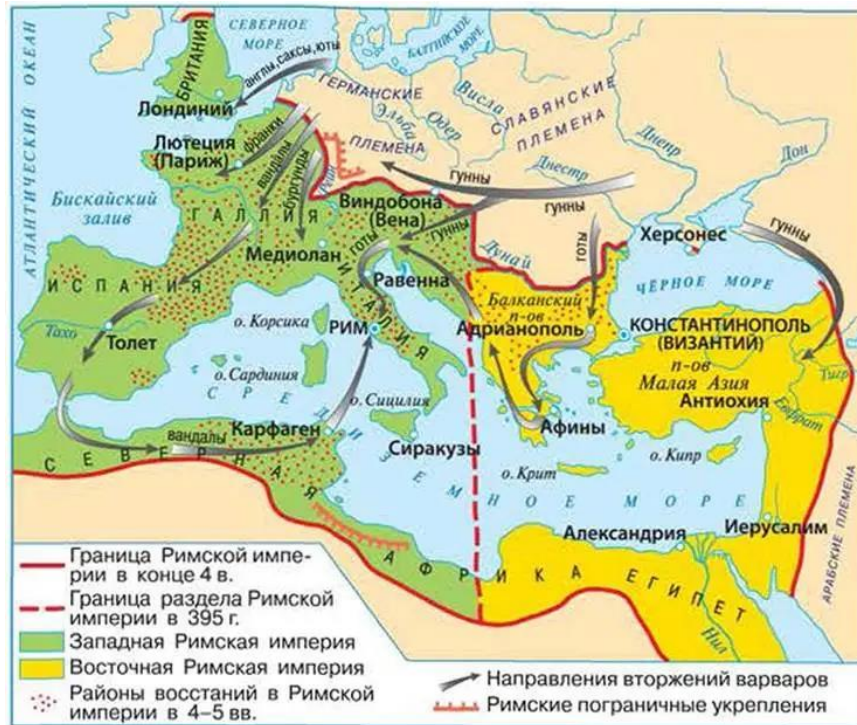


4)



За верный ответ 1 балл.

Задание 6-7. Рассмотрите схему и выполните задания





6. Выберите все верные утверждения

- 1) На схеме обозначены главные дороги Римской империи.
- 2) В период, обозначенный на схеме, Рим был захвачен гуннами.
- 3) Часть территорий, обозначенных на схеме, входит в состав современной России.
- 4) На схеме обозначен город, в котором, согласно летописи, Олег Вещий подписал торговый договор по итогам успешного военного похода.
- 5) На схеме обозначен город, исторический противник Римской империи, который был уничтожен римлянами, а земля, на которой он стоял, была засыпана солью.
- 6) На схеме обозначена река, по которой проходил путь «из варяг в греки».
- 7) Красной линией на схеме обозначены границы империи Карла Великого.
- 8) Стрелками на схеме обозначены действия восставших под предводительством Спартака.
- 9) Красной пунктирной линией на схеме обозначены оборонительные укрепления, известные как вал Адриана.
- 10) Зелёным и жёлтым цветом на схеме обозначены государства, образовавшиеся после распада империи Александра Македонского.

За каждый правильный ответ – 1 балл. Если выбрано больше 7 утверждений, то 0 баллов. За каждый неверный выбор штраф – 1 балл. Максимум за задание – 4 балла.

№7. Выберите памятники архитектуры, которые находятся в городах, обозначенных на схеме.

<p>1</p> 	<p>2</p> 
<p>3</p>	<p>4</p>



5



6



За каждый правильный ответ – 1 балл. Если выбрано больше 5 утверждений, то 0 баллов. За каждый неверный выбор штраф – 1 балл. Максимум за задание – 3 балла.

Задания 8-9. Прочитайте текст и выполните задания.

Взята Эдесса силой зла,
И христиан кручина ест:
Все храмы сожжены дотла,
Замолкли хор и благовест.
О, рыцари, пора пришла
Оружье взять и сняться с мест.
Тому отдайте в дар тела,
Кто ради вас взошёл на крест.

8. Выберите прозвища европейских правителей, принявших участие в событиях, о которых говорится в стихотворении.

1. Львиное сердце
2. Безумный
3. Безземельный
4. Завоеватель
5. Барбаросса
6. Красивый

За каждый правильный ответ – 1 балл. Если выбрано больше 4 утверждений, то 0 баллов. За каждый неверный выбор штраф – 1 балл. Максимум за задание – 2 балла.

№9. Выберите изображение, которое связано с событием (процессом), которому посвящено стихотворение.



За верный ответ 1 балл.

Задание 10. Прочитайте текст и выполните задание.

«Тем временем _1_ возвращался с битвы с норвежцами; он считал себя счастливым, потому что победил, мне же он кажется несчастным, потому что добыл победу предательством. И когда новость о высадке _2_ дошла до него, он, как был раненый в бою, тронулся в путь к _3_ с весьма незначительным войском...

Бились ожесточенно большую часть дня, и ни одна из сторон не уступала. Убедившись в этом, _4_ дал сигнал к мнимому бегству с поля брани. В результате этой хитрости боевые ряды англоv расстроились, стремясь истреблять беспорядочно отступающего врага, и тем была ускорена собственная их гибель; ибо _2_, круто повернувшись, атаковали разъединенных врагов, и обратили их в бегство. Так, обманутые хитростью, они приняли славную смерть, мстя за свою отчизну. Но всё же они и за себя отомстили с лихвой, и, упорно сопротивляясь, оставляли от своих преследователей груды убитых. Завладев холмом, они сбрасывали в котловину _2_, когда те, объятые пламенем [битвы], упорно взбирались на высоту, и истребили всех до единого, без труда пуская в подступающих снизу стрелы и скатывая на них камни. Борьба шла с переменным успехом, победа склонялась то к тем, то к другим, пока _1_ был жив. Когда же он пал, сраженный стрелой в голову, отступление англоv не прекращалось уже до самой ночи»

Из предложенного списка заполните пропуски в тексте соответствующими вставками.

Вставка 1,4	Вставка 2	Вставка 3
Гарольд	Викинги	Рим
Алкуин	Нормандцы	Лондиний
Аттила	Саксы	Лютеция
Квинтилий Вар	Франки	Гастингс
Аларих	Готы	Орлеан
Вильгельм	Римляне	Аахен
Юстиниан	Гунны	

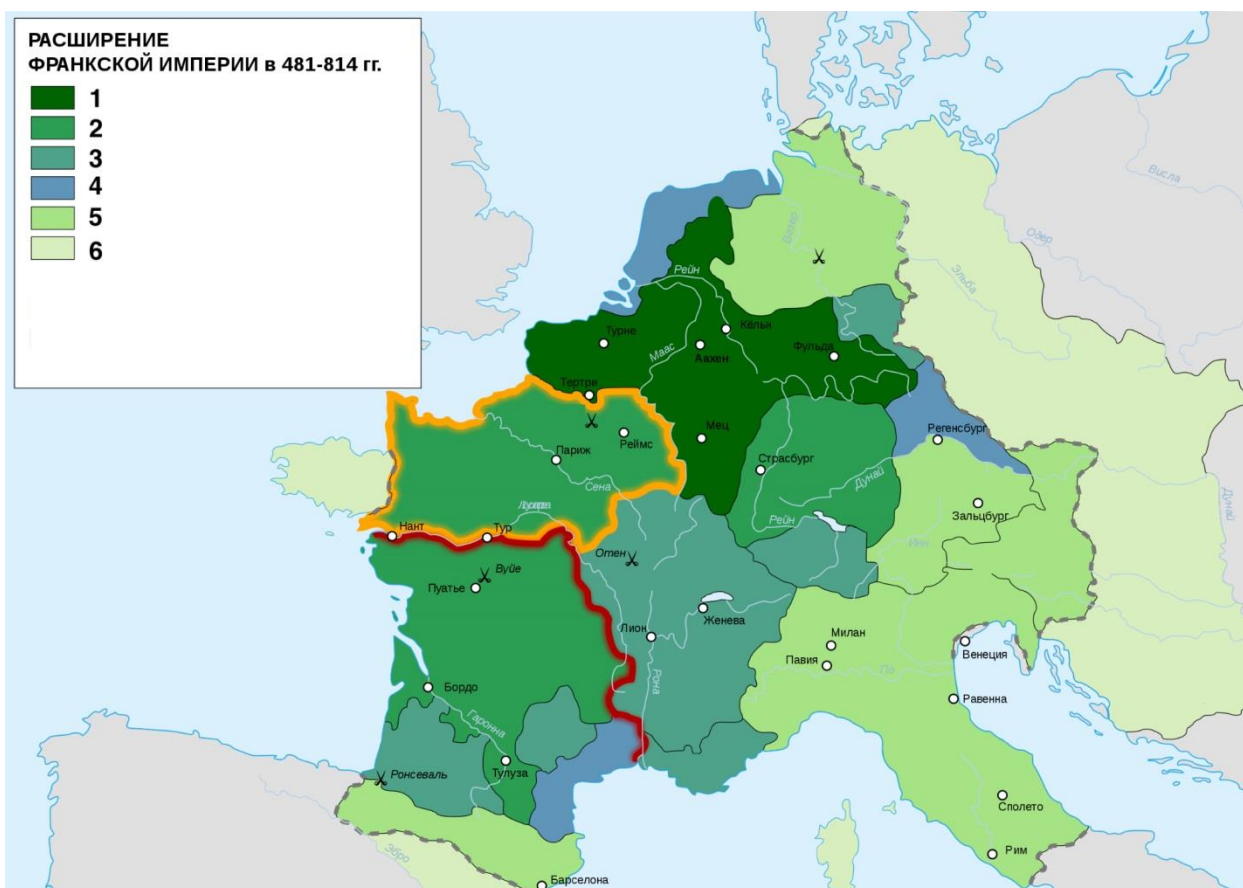
За каждый верный ответ 1 балл. Максимум за задание 7 баллов.

Задания 11-12. Прочитайте текст и выполните задания.

И собрал Карл великое собрание своего войска в Саксонии... и установил над ней графов из числа знатнейших саксов. А когда узнал, что они снова отпали от веры и собрались во главе с Видукиндом для мятежа, он вернулся в Саксонию, опустошил её и огромное множество саксов поразил своим грозным мечом.

После того как мир был установлен и мятежи прекратились, король вернулся домой. Видукинд же, зачинатель всех зол и вдохновитель козней, пришёл со своими приверженцами во дворец Аттиньи и был там крещён, и господин Карл был его восприемником и почтил великолепными дарами.

11. Перед вами схема расширения территории франкского королевства (империи). Выберите номер, которым на схеме обозначены территории, присоединенные к франкскому государству королём, упомянутым в тексте.



За верный ответ 1 балл.

12. Выберите список, в котором перечислены современные государства, располагающиеся на землях, входивших в состав империи, границы которой отражены на схеме.

- 1) Германия, Франция, Италия, Испания, Австрия, Бельгия

- 2) Франция, Нидерланды, Чехия, Швейцария, Португалия
- 3) Великобритания, Франция, Германия, Испания, Италия, Хорватия, Сербия
- 4) Швейцария, Германия, Франция, Италия, Греция, Швеция
- 5) Люксембург, Бельгия, Нидерланды, Германия, Финляндия

За верный ответ 1 балл.

Задание 13-14. Прочитайте текст и выполните задания.

В год 6370 изгнали варяг за море, и не дали им дани, и начали сами собой владеть, и не было среди них правды, и встал род на род, и была у них усобица, и стали воевать друг с другом. И сказали себе: «Поищем себе князя, который бы владел нами и судил по праву». И пошли за море к варягам, к руси. Те варяги назывались русью, как другие называются шведы, а иные норманны и англ, а ещё иные готландцы, – вот так и эти. Сказали руси чудь, словене, кривичи и весь: «Земля наша велика и обильна, а порядка в ней нет. Приходите княжить и владеть нами». И избрались трое братьев со своими родами, и взяли с собой всю русь, и пришли, и сел старший, Рюрик, в Новгороде, а другой, Синеус, – на Белоозере, а третий, Трувор, – в Изборске. И от тех варягов прозвалась Русская земля. Новгородцы же – те люди от варяжского рода, а прежде были словене. Через два же года умерли Синеус и брат его Трувор. И принял всю власть один Рюрик, и стал раздавать мужам своим города – тому Полоцк, этому Ростов, другому Белоозеро. Варяги в этих городах – находники, а коренное население в Новгороде – словене, в Полоцке – кривичи, в Ростове – меря, в Белоозере – весь, в Муроме – мурома, и над теми всеми властвовал Рюрик. И было у него два мужа, не родственники его, но бояре, и отпросились они в Царьград со своим родом. И отправились по Днепру, и когда плыли мимо, то увидели на горе небольшой город. И спросили: «Чей это городок?». Те же ответили: «Были три брата: Кий, Щек и Хорив, которые построили городок этот и сгинули, а мы тут сидим, их потомки, и платим дань хазарам». Аскольд же и Дир остались в этом городе, собрали у себя много варягов и стали владеть землёю полян. Рюрик же княжил в Новгороде.

№13. Выберите все верные суждения.


- 1) Все города, упомянутые в тексте, входят в состав современного Российского государства.
- 2) В тексте упомянут город, в котором принял крещение князь Владимир.
- 3) В тексте упоминается князь, погибший в результате восстания древлян.
- 4) Согласно тексту, варяги пришли на Русь с военным походом.
- 5) В тексте упоминаются имена легендарных основателей Киева.
- 6) В тексте упоминаются названия финно-угорских племенных союзов.
- 7) Согласно тексту, Аскольд и Дир приходились Рюрику братьями.
- 8) Автор текста говорит о беззаконии, царившем до прихода варягов на Русь.

- 9) В период событий, описанных в отрывке, все славянские племена исповедовали христианство.
- 10) Согласно тексту, все славянские племена платили дань хазарам.
- 11) В тексте упоминаются представители высшей знати феодального общества.
- 12) Упомянутый в тексте Рюрик получил прозвище Старый.
- 13) Согласно тексту, варяги прибыли на Русь со своими семьями.
- 14) Сосредоточение всей власти в руках Рюрика, согласно тексту, произошло ненасильственным путём.


За каждый правильный ответ – 1 балл. Если выбрано больше 9 утверждений, то 0 баллов. За каждый неверный выбор штраф – 1 балл. Максимум за задание – 6 баллов.

№14. Выберите изображение, связанное с событиями, упомянутыми в тексте.

1



2



3



4



За верный ответ 1 балл.